


# MATHÉMATIQUES

Les nombres de 0 à 20


Date : \_\_\_ / \_\_\_

1


Compte et écris le nombre de dessins.




13



8



14

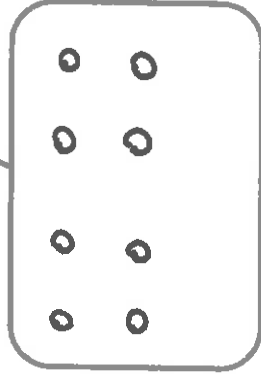


12

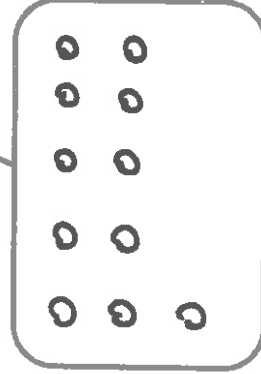
2

Dessine le nombre de billes d'après le nombre indiqué.


8



11



19



3

Complète avec le nombre juste avant et le nombre juste après.

8

9

10

12

13

14

15

17

18

19

20

4

Complète l'axe des nombres.



5

Dans ce tableau, les nombres sont compris entre 8 et 19. Retrouve les deux nombres manquants.

9	15	11	8
12	17		13
19		10	16