


Correction fichier « Archimaths » :

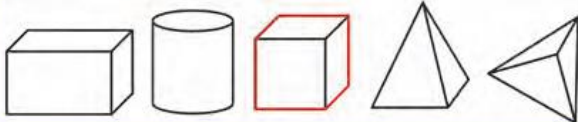
P64 : - page entière

1 Écris le nom de chacun de ces solides.




cube pavé droit


2 Colore le cube en rouge.



3 Entoure les pavés droits.



4 Lali et Nino ont joué au ballon. Combien de temps ont-ils joué ?



Heure de début Heure de fin

Lali et Nino ont joué pendant 10 minutes.

Compétence : Reconnaître et trier les solides usuels parmi des solides variés. quatre-vingt-un 81

P83 : - **uniquement** exercice 6

Il fallait entourer le pavé droit violet, le pavé droit vert et la pyramide rouge.

→ CALCUL ET ANALYSE DE LA PHRASE DU MATIN :

❖  $158 - 150 = 8$

$399 + 201 = 600$

❖ Le gros chat noir fait une bonne sieste.

Le et une sont des déterminants

chat et sieste sont des noms communs