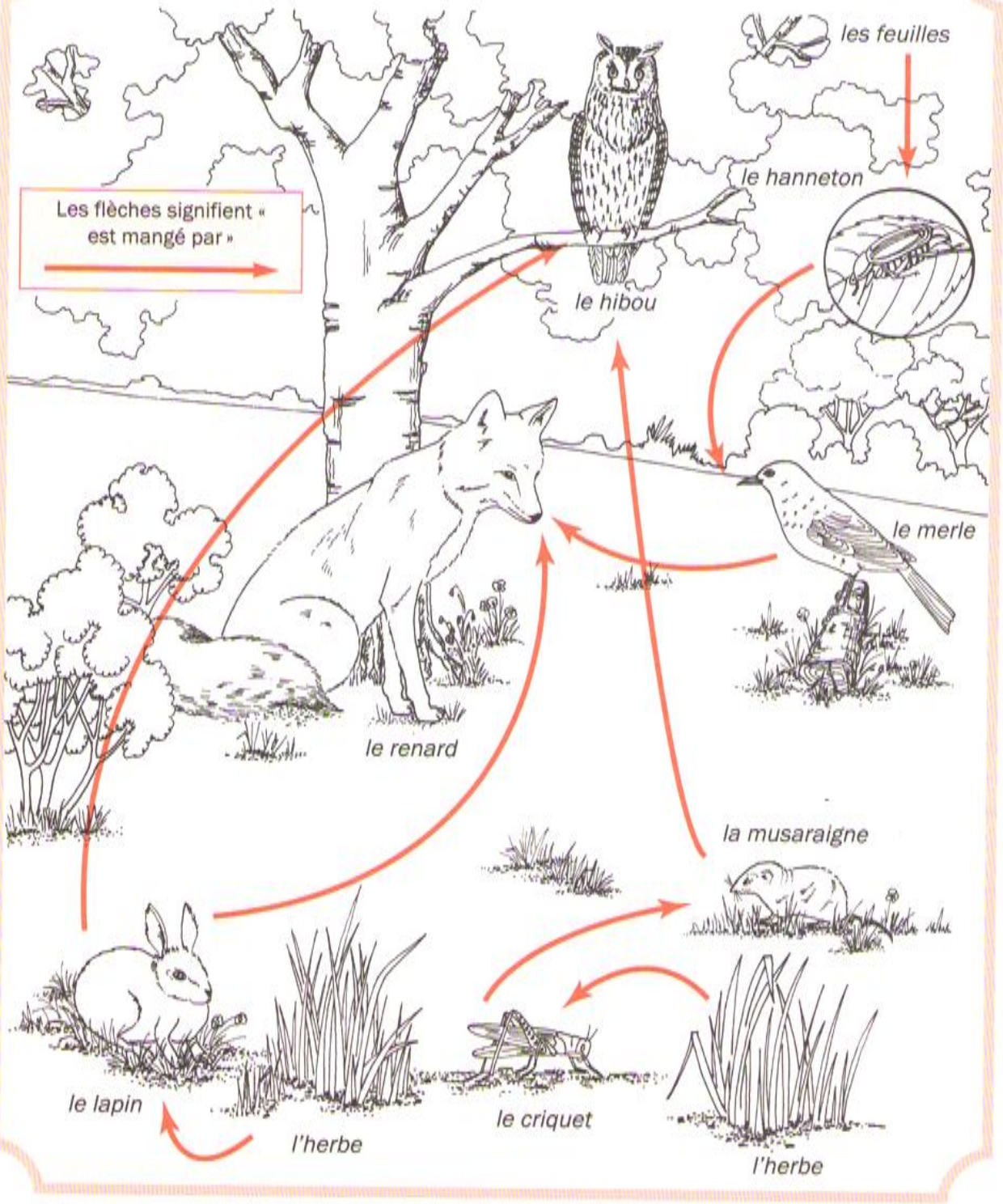


1

Dans une forêt

Les flèches signifient « est mangé par »





Voici une chaîne alimentaire.



Une chenille mange une feuille.

Un oiseau mange une chenille.

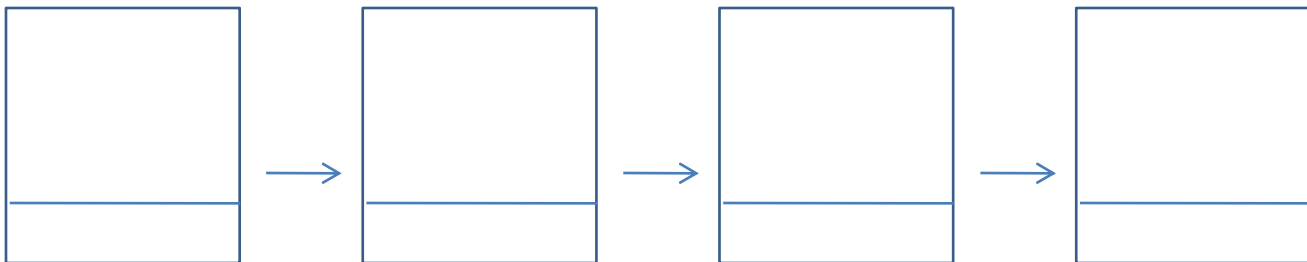
Un chat mange un oiseau.

### Réponds aux questions :

Dans cette chaîne alimentaire :

- qui est mangé en premier ? \_\_\_\_\_
- quel animal est végétarien ? \_\_\_\_\_
- quels animaux sont carnivores ? \_\_\_\_\_

Complète la chaîne alimentaire. Puis, entoure en vert clair le(s) maillon(s) des plantes, en vert foncé ceux des animaux végétariens et en rouge ceux des animaux carnivores.



### A RETENIR

Une chaîne alimentaire comporte au moins \_\_\_\_\_ maillons, parfois plus. Le premier maillon est toujours une \_\_\_\_\_. Le deuxième maillon est un animal \_\_\_\_\_. Les suivants sont des animaux \_\_\_\_\_.

Schéma 1

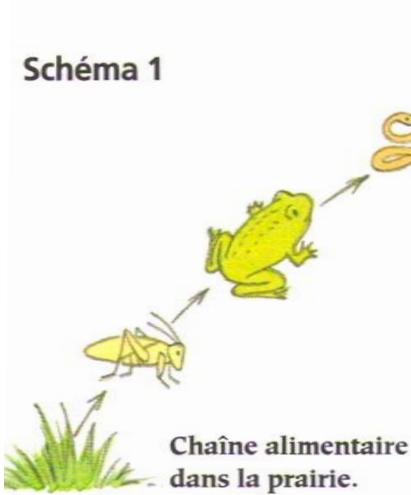



Schéma 2



- Ces deux schémas représentent-ils la même chaîne alimentaire ? \_\_\_\_\_
- Quel est le premier élément de la chaîne ? \_\_\_\_\_
- Que mange la couleuvre ? \_\_\_\_\_
- Quel élément de la chaîne est végétarien ? \_\_\_\_\_
- Quel renseignement supplémentaire apporte la pyramide ? \_\_\_\_\_

## RÉFLÉCHIS !

- Les coccinelles se nourrissent de pucerons. Le jardinier a pulvérisé un produit anti-pucerons sur les rosiers. À ton avis, pourquoi n'y a-t-il plus de coccinelles dans le jardin ?
- Les araignées se nourrissent d'insectes. Sont-elles utiles pour les humains ?
- On vend des produits pour tuer les limaces et les escargots. Qui utilise ces produits et pourquoi ?

## PRÊT POUR L'ÉVALUATION ?

- Tu sais dire (et écrire) les trois principaux régimes alimentaires. En regardant ce que mange un animal, tu sais dire quel est son régime alimentaire.
- Tu sais écrire une chaîne alimentaire (tu sais ce qu'il faut toujours mettre au début, en deuxième, et à la fin ; tu ne te trompes pas dans le sens des flèches).
- Tu sais lire et interpréter un schéma qui présente ce que mangent les animaux.
- Tu utilises tes connaissances.