


## Corrections du vendredi 28 mai : CE1

→ Phrase du jour

Les immenses voiliers voguent sur une mer calme.



→ **MATHEMATIQUES** Chap 94 p 115

**1** Calcule la durée écoulée pour chaque joueur.



Durée du sablier : 10 minutes	Joueur	Nombre de sabliers	Nombre de minutes	Durée en heure et minutes
	Lali	1	10	0 heure 10 minutes
	Nino	3	30	0 heure 30 minutes
	Bianca	6	60	1 heure 0 minute
	Éva	10	100	1 heure 40 minutes
	Paul	7	70	1 heure 10 minutes

**2** Indique ce que chaque tirelire contient.

$2 \times 100 \text{ €}$     la moitié de  $100 \text{ €}$


    

la moitié de  $50 \text{ €}$      $3 \times 25 \text{ €}$

**3** Complète.

4 tours de piste, c'est 100 m.  
 2 tours de piste, c'est 50 m.  
 1 tour de piste, c'est 25 m.  
 3 tours de piste, c'est 75 m.



**4** Le récipient A est gradué de 2 en 2. Le récipient B est gradué de 10 en 10.  
 Écris, pour chaque récipient, les graduations demandées.

